

I PROCESSO SELETIVO DE ESTAGIÁRIOS E RESIDENTES DO MINISTÉRIO PÚBLICO DO ESTADO DE MATO GROSSO DO SUL

Horário: **08h**

MANHÃ

Duração da prova: **4h**

Cód: **1000 a 1052**

Cargo:

Ensino Médio

INSTRUÇÕES

1. Leia atentamente as instruções. Não manuseie este caderno de provas até receber autorização.
2. Para fazer esta prova, você usará: a) este caderno de questões; b) um cartão-resposta.
3. Ao receber autorização, verifique se no caderno constam todas as **50 (cinquenta)** questões e se há falhas ou imperfeições gráficas que lhe causem dúvida. Se houver, reclame imediatamente ao fiscal de sala.
4. Verifique, no cartão-resposta, se há marcações indevidas no campo destinado às suas respostas. Se houver, reclame imediatamente.
5. As questões objetivas contêm cinco (5) alternativas, identificadas pelas letras A, B, C, D e E.

Transcreva para o cartão-resposta a alternativa correta.

Há somente uma alternativa correta para cada questão.

Exemplo: se a alternativa correta de uma determinada questão for B, o candidato deverá preencher totalmente o retângulo correspondente, com caneta esferográfica azul ou preta, conforme modelo abaixo:

A	<input checked="" type="checkbox"/>	C	D	E
---	-------------------------------------	---	---	---

6. Não faça rasuras no cartão-resposta.
7. Procure responder a todas as questões.
8. Durante a prova, não se admite que o candidato comunique-se com outros candidatos, efetue empréstimos, use meios ilícitos ou pratique atos contra as normas ou a disciplina. A fraude, a indisciplina e o desrespeito aos fiscais encarregados dos trabalhos são faltas que eliminam o candidato.
9. É expressamente proibido que o candidato utilize quaisquer meios de comunicação durante sua permanência no local de prova. Os aparelhos celulares deverão estar desligados, não sendo permitido que eles toquem em nenhum momento durante a realização da prova.

LÍNGUA PORTUGUESA

01. Assinale a alternativa que contém erro ortográfico.

- A) Se vejo uma lagartixa, fico horrorizada.
- B) Carlinhos não parou de tossir essa noite.
- C) Passou mal após comer macarrão com salsicha.
- D) A sua teimosia foi um grande impecilho para o diálogo.
- E) O café foi servido e o pão com manteiga estava fresquinho.

Leia a tirinha abaixo e responda às questões **02** e **03**:



02. Os adjetivos jovem e brilhante referem-se a quais substantivos, respectivamente?

- A) Bonito e família.
- B) Família e donzela.
- C) Cavaleiro e família.
- D) Cavaleiro e donzela.
- E) Cavaleiro e armadura.

03. No terceiro quadrinho, o adjetivo "exigentes" está flexionado no plural para concordar com:

- A) dia.
- B) mais.
- C) estão.
- D) ficando.
- E) donzelas.

04. Assinale a alternativa que completa corretamente a frase a seguir:

"Vou _____ escola."

- A) a.
- B) ao.
- C) para.
- D) à.
- E) de.

05. Assinale a alternativa correta em relação ao uso de MAIS e MAS.

- A) Gostaria de viajar, mais não me sobra dinheiro.
- B) Mas poderes, demandam mais responsabilidades.
- C) Eu pretendia ir ao cinema, mais perdi o horário da sessão.
- D) Minha mãe quer ficar mas tempo comigo nos finais de semana.
- E) Procure passar menos tempos nas redes sociais e praticar mais a leitura de livros.

Leia o poema abaixo e responda às questões **06** e **07**:

Pela rua deserta atravessa um bêbado comprido
E oscilante
Como bambu
Assobiando...
(...)

(BARROS, Manoel de. *Poesia completa*. São Paulo: Leya, 2010)

06. Do ponto de vista morfológico, os termos "atravessa, bêbado, oscilante" em destaque no poema são classificados, respectivamente, como:

- A) verbo, substantivo, adjetivo.
- B) verbo, pronome, substantivo.
- C) pronome, substantivo, verbo.
- D) substantivo, advérbio, adjetivo.
- E) substantivo, substantivo, verbo.

07. No poema, a palavra "como" estabelece uma ideia de:

- A) negação.
- B) oposição.
- C) imposição.
- D) comparação.
- E) classificação.

08. Qual das seguintes alternativas apresenta um adjetivo?

- A) Correr.
- B) Rápido.
- C) Livro.
- D) Dançar.
- E) Cantar.

09. Em relação ao uso do hífen, assinale a alternativa correta.

- A) Essa nova bactéria é hiper-resistente.
- B) A notícia saiu em caráter extra-oficial.
- C) A infra-estrutura do prédio está condenada.
- D) O co-autor da obra é especialista no assunto.
- E) O ultra-som foi necessário para o diagnóstico.

10. Assinale a alternativa em que todas as palavras estão acentuadas corretamente.

- A) Céu – Amapá – órfão.
- B) Açucar – cédula – juri.
- C) Aneis – publico – graudo.
- D) Lampada – cedula – publico.
- E) Chapeu – album – lâmpada.

11. As palavras invariáveis que exprimem estados emocionais, sensações, e estados de espírito dos falantes são denominadas:

- A) verbos.
- B) adjetivos.
- C) conjunções.
- D) preposições.
- E) interjeições.

12. Qual sinal de pontuação indica interrupção da frase com finalidade de sugerir supressão de trecho em textos?

- A) Vírgula.
- B) Ponto final.
- C) Reticências.
- D) Dois pontos.
- E) Ponto de exclamação.

Leia a letra da canção a seguir e responda às questões **13** a **15**:

Avião sem asa,
fogueira sem brasa,
sou eu assim sem você.
Futebol sem bola,
Piu-piu sem Frajola,
sou eu assim sem você.

_____ é que tem que ser assim,
se o meu desejo não tem fim?
(...)

Eu não existo longe de você,
e a solidão é meu pior castigo.
Eu conto as horas pra poder te ver,
mas o relógio tá de _____ comigo.

(BOCHECHA, Claudinho e. Fico Assim sem você. Disponível em:
<https://www.lettras.mus.br/claudiohno-e-buchecha/47176/>.
Acesso em: 05 ago. 2023.)

13. Qual alternativa preenche correta e respectivamente as lacunas, considerando a ordem de cima para baixo?

- A) Porquê – mal.
- B) Por que – mal.
- C) Porque – mau.
- D) Por quê – mau.
- E) O por que – mau.

14. Os termos “avião; eu; Frajola; existo”, em destaque na canção, pode ser classificados, morfológica e respectivamente, como:

- A) verbo – substantivo – pronome – verbo.
- B) substantivo – preposição – adjetivo – verbo.
- C) substantivo – verbo – substantivo – pronome.
- D) preposição – interjeição – substantivo – substantivo.
- E) substantivo – pronome – substantivo próprio – verbo.

15. No trecho lido, os verbos estão conjugados em qual tempo verbal?

- A) Futuro.
- B) Passado.
- C) Presente.
- D) Passado do futuro.
- E) Futuro do presente.

MATEMÁTICA

16. Sobre a equação $-3x+2=0$, é possível afirmar que x é um número:

- A) natural.
- B) inteiro.
- C) inteiro maior que 2.
- D) irracional.
- E) racional.

17. Ao somar 3 a um número x , e multiplicar o resultado desta soma por 2, o resultado obtido foi 10. Que número x é esse?

- A) 2
- B) 3
- C) 4
- D) 5
- E) 0

18. Após um jogo de time de futebol, 6 (seis) amigos decidiram ir até uma pizzaria comemorar a vitória. Ao final, quando pediram a conta, verificaram que o valor final da consumação foi de R\$ 754,50 (setecentos e cinquenta e quatro reais e cinquenta centavos). Caso eles decidam dividir a conta igualmente, o valor pago por cada um será de:

- A) R\$ 150,90
- B) R\$ 125,75
- C) R\$ 135,25
- D) R\$ 115,50
- E) R\$ 377,25

19. Uma certa fábrica têxtil com 14 máquinas realiza um serviço em 4 dias. Se reduzir para 8 máquinas, qual será o novo tempo, em dias, para a realização do mesmo serviço?

- A) 5
- B) 2
- C) 12
- D) 7
- E) 9

20. Qual é o número que somado a 689 é igual a 27873?

- A) 27148
- B) 27183
- C) 27184
- D) 27194
- E) 27284

21. O resultado da operação $-3.(2+2.2)$ é:

- A) 5
- B) 30
- C) -18
- D) -20
- E) -30

22. Alice, ao observar seu boletim, percebeu as seguintes notas de matemática:

Matemática			
1º BIMESTRE	2º BIMESTRE	3º BIMESTRE	4º BIMESTRE
6	4	6	8

Sobre a média aritmética das notas de Alice nos quatro bimestres, é possível afirmar que :

- A) é maior que 6.
- B) é igual a 5
- C) está entre 5 e 6.
- D) é maior ou igual a 6.
- E) é menor que 6.

23. Determine o quociente das divisões a seguir:

- I. $2023 \div 17$
- II. $1959 \div 3$
- III. $66780 \div 45$

Assinale a alternativa que contém as respostas corretas:

- A) I = 113; II = 656; III = 1584.
- B) I = 113; II = 653; III = 1484.
- C) I = 119; II = 656; III = 1484.
- D) I = 119; II = 653; III = 1484.
- E) I = 119; II = 653; III = 1584.

24. Uma peça de roupa foi anunciada inicialmente a um valor de R\$80,00. Em uma promoção, a peça sofreu um desconto de 25% no valor inicial. Qual o novo valor da peça, em reais, após o desconto?

- A) 48
- B) 55
- C) 60
- D) 65
- E) 70

25. Ao somarmos um mesmo número por três vezes, o resultado obtido é 12. Qual seria esse número?

- A) 3
- B) 4
- C) 5
- D) 6
- E) 8

26. Joana recebeu um pacote com 85 balas, e decidiu distribuir igualmente aos seus 5 amigos. Quantas balas cada amigo recebeu?

- A) 12
- B) 13
- C) 15
- D) 16
- E) 17

27. Um número somado ao seu dobro é igual a 30. Que número é esse?

- A) 7
- B) 10
- C) 12
- D) 15
- E) 30

28. Efetue as subtrações indicadas:

- I. $2023 - 1877$
- II. $32956 - 17213$
- III. $9876 - 2345$

Assinale a alternativa que contém as respostas corretas:

- A) I = 146; II = 15734; III = 7531.
- B) I = 147; II = 15743; III = 7431.
- C) I = 145; II = 15753; III = 7531.
- D) I = 146; II = 15743; III = 7521.
- E) I = 146; II = 15743; III = 7531.

29. A 23ª (vigésima terceira) edição da Copa do Mundo Fifa será realizada em 2026 em três países: Canadá, Estados Unidos e México. A cada quatro anos o evento se repete. A edição de número 34 (trinta e quatro) será realizada no ano de:


- A) 2066
- B) 2068
- C) 2070
- D) 2074
- E) 2076

30. Em um auditório, há 8 fileiras com 13 cadeiras cada; 9 fileiras com 14 cadeiras cada; e 12 fileiras com 15 cadeiras cada. Sendo assim, o número total de cadeiras que há nesse auditório é:

- A) 408
- B) 410
- C) 412
- D) 230
- E) 306

NOÇÕES DE INFORMÁTICA





31. Sobre os comandos do Sistema Operacional Windows 10, há o comando que exibe o Menu Iniciar do Windows 10, permitindo que o usuário escolha um programa, dentre os instalados, para abrir o Word, por exemplo. A tecla que mostra o Menu Iniciar é:

- A) F1.
- B) F2.
- C) F10.
- D) .
- E) ESC.

32. Um estagiário do Ministério Público, estava utilizando o Windows Explorer e, sem querer, excluiu um arquivo que estava selecionado, pressionando a tecla DELETE. Assinale a alternativa que contenha a combinação de teclas que ele pode usar para recuperar o arquivo imediatamente, desfazendo a ação anterior:

- A) Alt + F4.
- B) Ctrl + C.
- C) Ctrl + V.
- D) Ctrl + X.
- E) Ctrl + Z.

33. Um estagiário do Ministério Público, utilizando o Windows 10, precisa abrir o aplicativo Windows Explorer (Explorador de Arquivos) e, para tal, deseja fazê-lo através de um atalho. Qual a combinação de tecla que deve utilizar?

- A)  + R.
- B)  + E.
- C) Ctrl + ESC.
- D)  + D.
- E)  + L.

34. Sobre o Gerenciamento e Manipulação de Arquivos, estagiário do Ministério Público, utilizando o Windows Explorer no Windows 10, necessita criar uma nova subpasta dentro da pasta chamada MPEMS. Uma vez dentro da pasta MPEMS, assinale a alternativa que contenha o comando correto para criar a nova subpasta:

- A) clicar com o botão direito → Clicar em Novo → Clicar em Pasta → digitar o nome desejado.
- B) clicar com o botão direito → Clicar em Novo → clicar em Atalho → digitar o nome desejado.
- C) clicar com o botão direito → Clicar em Novo → Clicar em Documento de Texto → digitar o nome desejado.
- D) clicar com o botão direito → Clicar em Novo → Clicar em Documento do Microsoft Word → digitar o nome desejado.
- E) clicar com o botão direito → Clicar em Novo → Clicar em Planilha do Microsoft Excel → digitar o nome desejado.

35. Um estagiário do Ministério Público, necessita imprimir um documento do Microsoft Word 365, para tal, o seu superior imediato, com o intuito de ajudá-lo a ganhar tempo, informou que existe uma combinação de teclas que abre a caixa de diálogo da impressora, a qual imprime rapidamente um arquivo com configurações padrão, bastando depois de aberta a caixa de diálogo clicar em "Imprimir". A combinação de teclas que executa a tarefa mencionada, é Ctrl + P. A maneira convencional de Imprimir através do Menu, abrindo a caixa de diálogo supracitada, seria:

- A) Clicar em Arquivo → Compartilhar.
- B) Clicar em Inserir → Tabela.
- C) Clicar Arquivo → Imprimir.
- D) Clicar em Exibir → Modo de Leitura.
- E) Clicar em Ajuda → Novidades.

36. Um estagiário do Ministério Público, redigiu um documento no Microsoft Word 365. Ao receber o documento, o superior imediato verificou que os parágrafos do referido documento não estavam justificados.

Observe a figura abaixo:



Agora responda, qual botão (para alinhamento de texto) da sequência 1, 2, 3 e 4, que formatará o parágrafo deixando o texto justificado?

- A) 1.
- B) 2.
- C) 3.
- D) 4.
- E) Nenhum dos botões apresentados na figura deixará o texto justificado.

37. Sobre os conceitos básicos de Internet e correio eletrônico, assinale a alternativa que sempre existirá no endereço de e-mail:

- A) _ (underline)
- B) @(arroba)
- C) .br
- D) .com
- E) #(cerquilha)

38. Um estagiário do Ministério Público, precisa enviar um e-mail com um anexo. Assinale a única alternativa que NÃO pode ser enviada como anexo em um e-mail:

- A) Um arquivo de música.
- B) Um documento do word.
- C) Um link (endereço) de um site.
- D) Um arquivo de vídeo.
- E) Um arquivo de imagem.

39. Um estagiário do Ministério Público, estava utilizando o Windows Explorer e, deseja COPIAR um arquivo que estava selecionado, para uma outra pasta, com a finalidade de atender um pedido do chefe imediato. Assinale a alternativa que contenha a combinação de teclas que ele pode usar para COPIAR o arquivo:

- A) Alt + F4.
- B) Ctrl + Z.
- C) Ctrl + Y.
- D) Ctrl + X.
- E) Ctrl + C.

40. Sobre os aplicativos voltados para Segurança da Informação, assinale a alternativa que contenha o programa que NÃO faz parte do conjunto de ferramentas antimalware existente:

- A) Antivírus.
- B) Antispyware.
- C) Antirrootkit.
- D) Antitrojan.
- E) Phishing.

CONHECIMENTOS GERAIS

41. Pantanal é identificado pela coexistência de diversas atividades econômicas que exercem influência direta sobre o seu ecossistema. Uma das notáveis práticas nesse contexto é:

- A) a Indústria Química.
- B) a Exploração de Gás.
- C) a Pecuária Extensiva.
- D) a Extração de Petróleo.
- E) a Produção de Frutas.

42. Assinale a alternativa que indique presidentes brasileiros que sofreram processo de impeachment.

- A) Dilma Rousseff e Fernando Henrique Cardoso.
- B) Dilma Rousseff e Fernando Collor.
- C) Dilma Rousseff e Lula.
- D) Fernando Collor e Fernando Henrique Cardoso.
- E) Getúlio Vargas e Fernando Henrique Cardoso.

43. Os arranjos populacionais englobam conjuntos urbanos que exibem traços de integração, seja por meio de deslocamentos pendulares relacionados ao trabalho e à educação ou devido à continuidade da expansão urbana.

Em relação a esse tema, no estado de Mato Grosso do Sul, um recente arranjo populacional, oriundo da instalação de uma das maiores fábricas de celulose do Brasil pela empresa Suzano Celulose S.A. conecta os municípios de:

- A) Campo Grande e Terenos.
- B) Campo Grande e Corumbá.
- C) Campo Grande e Ribas do Rio Pardo.
- D) Campo Grande e Dourados.
- E) Campo Grande e Coxim.

44. Agrupamento de Países do Sul Global para a promoção e fortalecimento de diálogos, identificação de convergências e concertação em relação a diversos temas visando ampliação de contatos e cooperação em setores específicos. Principalmente, no que se refere ao desenvolvimento socioeconômico, combate as desigualdades e as mudanças climáticas.

- A) G20
- B) OTAN
- C) BRICS
- D) ONU
- E) MERCOSUL

45. Nova geração de serviço móvel do setor de telecomunicações que possibilitará um aumento significativo no tráfego de dados, já em operação em 184 municípios, que incluem todas as capitais.

- A) 5G.
- B) ChatGPT.
- C) 4G.
- D) iPhone 15.
- E) Bitcoin.

46. O Estado de Mato Grosso do Sul faz divisa com quais outras Unidades Federativas do Brasil?

- A) Mato Grosso do Sul, Goiás, Minas Gerais, São Paulo e Paraná.
- B) Mato Grosso, Goiás, Minas Gerais e São Paulo.
- C) Mato Grosso, Goiás, São Paulo e Paraná.
- D) Paraguai e Bolívia.
- E) Mato Grosso, Goiás, Minas Gerais, São Paulo e Paraná.

47. Quais biomas podem ser encontrados no Mato Grosso do Sul?

- A) Cerrado, Caatinga e Pantanal.
- B) Cerrado, Mata Atlântica e Pantanal.
- C) Cerrado, Amazônia e Pantanal.
- D) Caatinga, Mata Atlântica e Pantanal.
- E) Mata Atlântica, Amazônia e Pantanal.

48. Em que ano serão realizadas as próximas eleições para o cargo de deputado estadual do Mato Grosso do Sul?

- A) 2024
- B) 2025
- C) 2026
- D) 2027
- E) 2028

49. Apesar das opiniões divergentes e na descrença de parte da população quanto à sua eficácia, o processo de vacinação contra a covid-19 teve início em 2021 com a aplicação das primeiras doses da CoronaVac, o primeiro imunizante a ser disponibilizado no combate à pandemia no país, desenvolvido através de uma colaboração entre o laboratório Sinovac e:

- A) o Instituto Butantan.
- B) a USP.
- C) o Inep.
- D) a Fundação Fiocruz.
- E) o ICMbio.

50. De acordo com informações fornecidas pelo Ministério da Agricultura, Pecuária e Abastecimento (MAPA), o estado do Mato Grosso do Sul ocupa a sétima posição entre as unidades federativas do Brasil em termos de geração de riqueza proveniente do agronegócio. Qual das opções a seguir lista os principais produtos desse setor no Estado?

- A) Tereré e mandioca.
- B) Café e Laranja.
- C) Eucalipto e Cana-de-açúcar.
- D) Soja e Pecuária.
- E) Algodão e Milho.

